


# 校長室 (こうちょうしつ) からの 挑戦状 (ちょうせんじょう) !

【高学年向き】

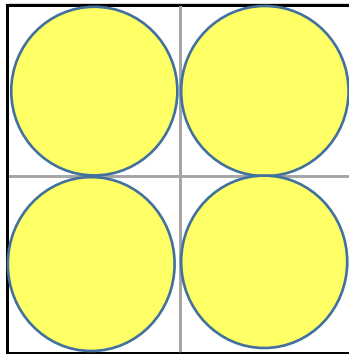
(もんだい)

円の形をした大きさのちがう3種類のケーキがあります。  
どれも同じ大きさの箱に入っていて、ねだんも同じです。  
一番お得(ケーキの面積が一番大きい)なものは  
どれでしょう。

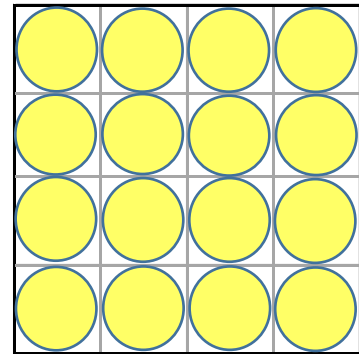
①



②



③



缶ガエルくん

箱の1辺の長さを決めて(例 8cm)  
計算してみましょう。

(こたえ)

( )